




1 Le vélo de Freesper est juste devant celui de Jules. Celui de Nora et celui de Jules ne se suivent pas. Quel est le vélo de Nora ? Entoure-le.



2 Quel chiffre se cache derrière chaque symbole ?

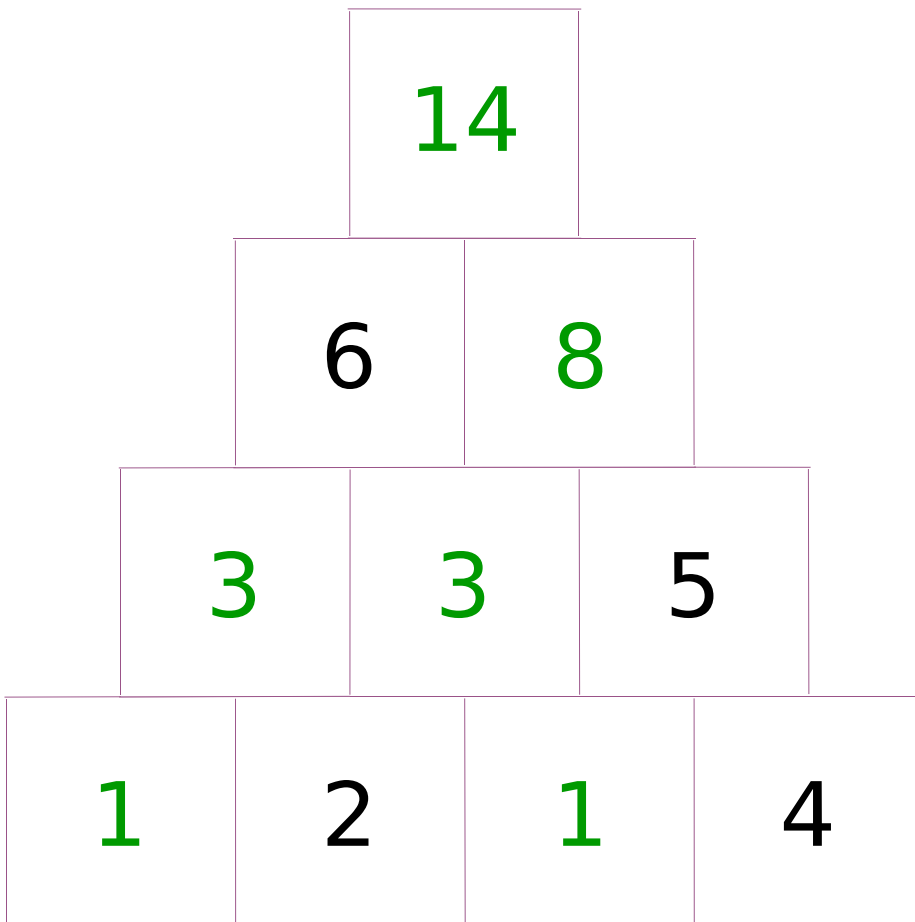
$$\text{🌸} \times \text{🌸} \times \text{🌸} = \text{🌼} \text{🌸}$$

$$\dots 4 \times \dots 4 \times \dots 4 = \dots 64 \dots$$

En faisant des essais/erreurs et en ajustant...

3 *Pyramide additive*

Chaque nombre est la somme des 2 nombres situés en-dessous.



4 Donne les trois termes qui poursuivent logiquement la liste suivante.

A

C

E

G

I

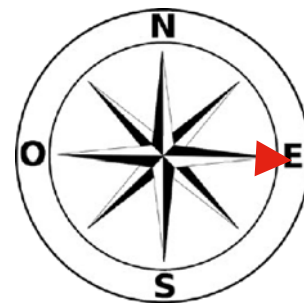
K

En observant les 3 premières lettres, on s'aperçoit qu'il en manque une entre chaque...

5 Au départ, on met cap à l'Est.
Puis on effectue 2 changements de cap :

- Lors du premier, l'aiguille tourne d'un demi-tour ; *Elle arrive donc à l'ouest.*
- Lors du second, elle tourne d'un quart de tour dans le sens des aiguilles d'une montre.

Quelle direction indique désormais l'aiguille ?



Nord

Elle remonte donc au nord.